

« Activités préalables - Module A BIS : Figures simples-Activité 1 »

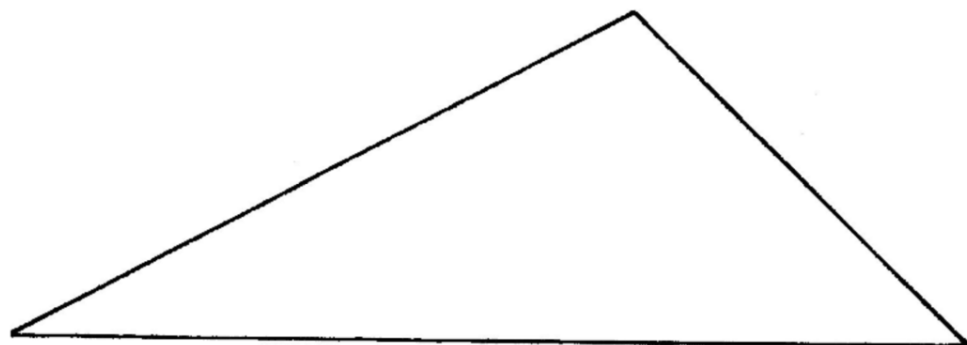
Prénom :

Etape 1 : Choisis parmi les « *gabarits de triangles* » qui te sont proposés celui qui correspond au modèle.

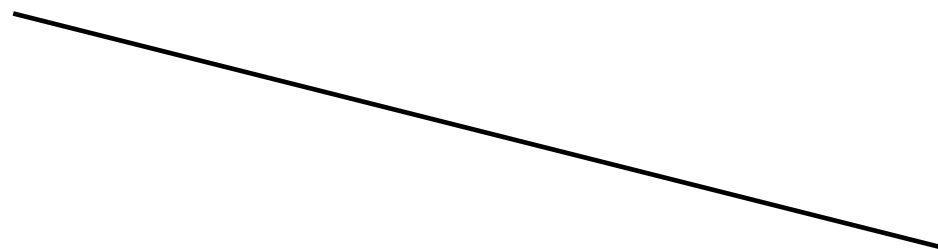
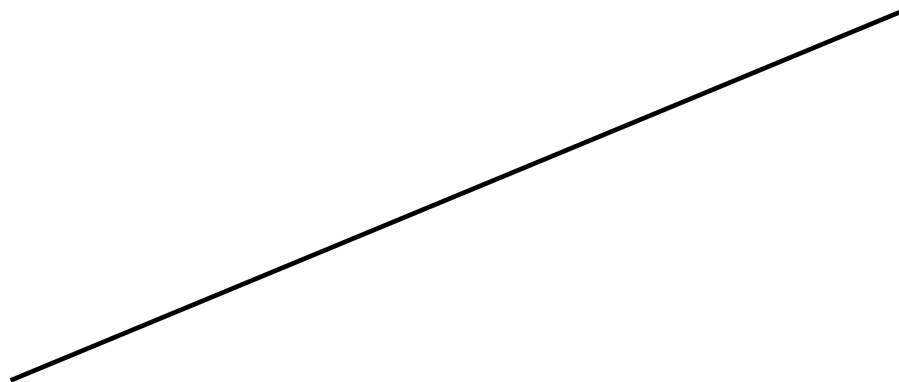
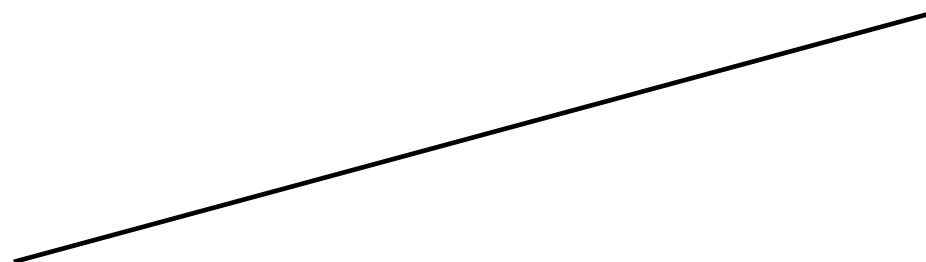
Explique ensuite par écrit comment tu as fait pour choisir le bon gabarit

Etape 2 : Termine le tracé de ces triangles. Un côté est déjà tracé. Tu peux utiliser le gabarit choisi et/ou la règle graduée.

Explique ensuite par écrit comment tu as fait pour terminer le tracé.



Modèle



Coche ce que tu as utilisé	
Gabarit	<input type="checkbox"/>
Règle non graduée	<input type="checkbox"/>

« Activités préalables - Module A BIS : Figures simples-Activité 2 »

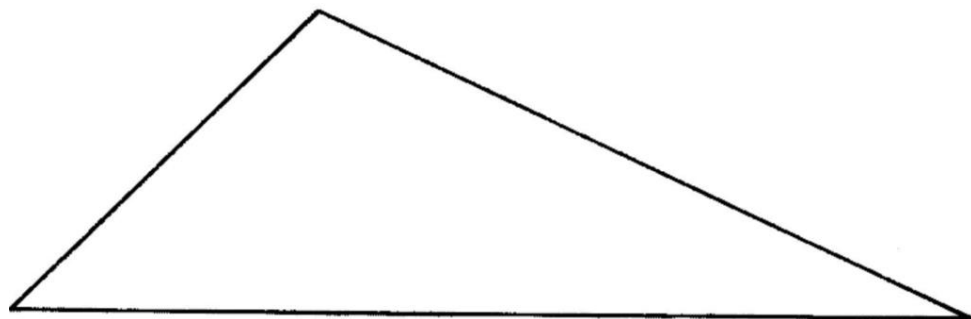
Prénom :

Etape 1 : Choisis parmi les « *gabarits de triangles grignotés* » qui te sont proposés celui qui correspond au modèle.

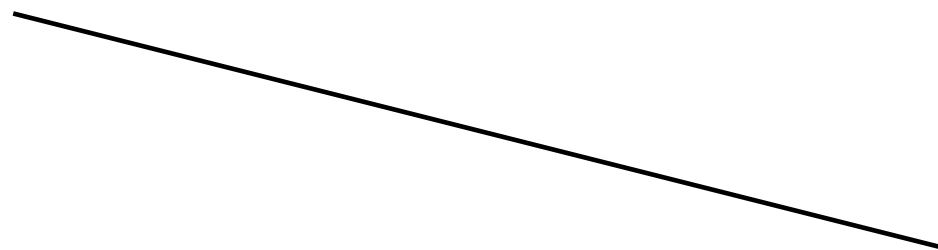
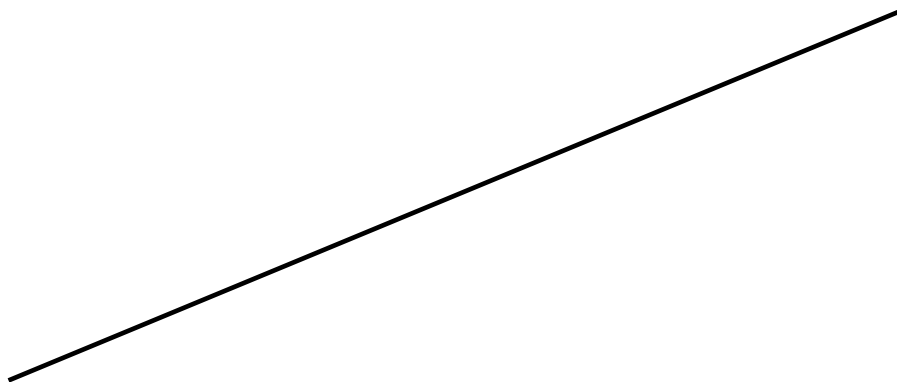
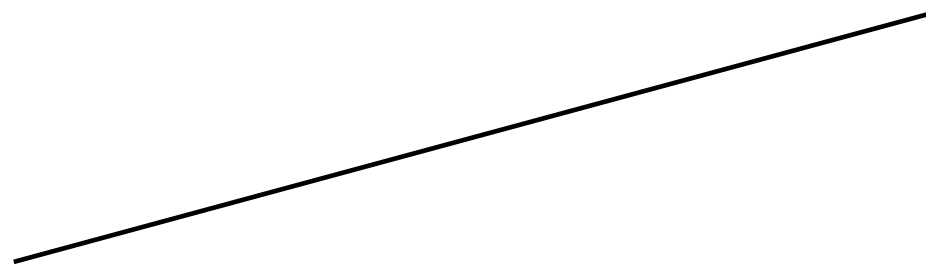
Explique ensuite par écrit comment tu as fait pour choisir le bon gabarit

Etape 2 : Termine le tracé de ces triangles. Un côté est déjà tracé. Tu peux utiliser le gabarit choisi et/ou la règle graduée.

Explique ensuite par écrit comment tu as fait pour terminer le tracé.



Modèle



Coche ce que tu as utilisé	
Gabarit	<input type="checkbox"/>
Règle non graduée	<input type="checkbox"/>